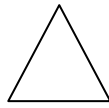
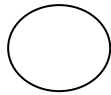



نام و نام خانوادگی:

بیک تابستانه ۲

دبستان آزاده

۱ نام هر شکل را بنویس



۲ با توجه به ساعت کامل کن



ساعت است . ساعت از گذشته است . کمی به ساعت مانده است .

۳ دسته ده تایی درست کن و در جای خالی عدد مناسب بنویس



با عدد

با حروف

یکی ده تایی

۴ جواب جمع ها را بنویس و دور علامت مناسب خط بکش

$10 + 10 + 5 =$

$< = >$

$5 + 5 + 20 =$

$50 + 10 + 10 =$

$< = >$

$25 + 5 + 10 =$

۵ مساله را حل کن

مریم ۲۰ شکلات خرید . ۹ تایی آن را به خواهرش و ۶ تایی آن را به برادرش داد . چند شکلات برای او باقی مانده است ؟ شکل بکشید

..... - =

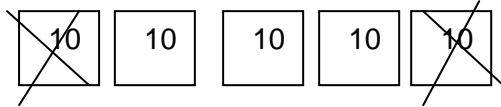
..... - =

ادامه بدهید

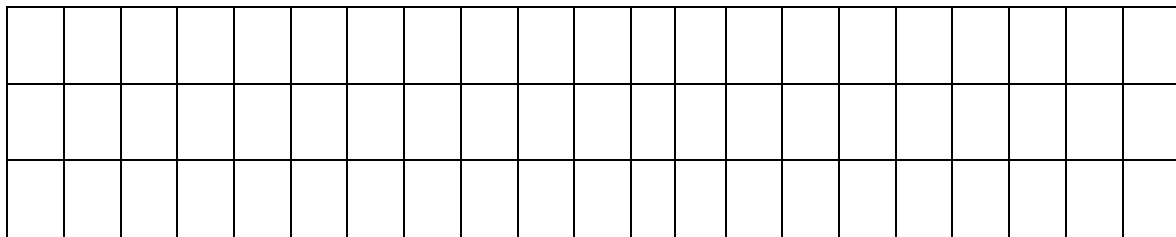
۱۲، ۱۴، ۱۶، ۶ ۶ ۶ ۶

۶۰، ۵۵، ۵۰، ۶ ۶ ۶ ۶

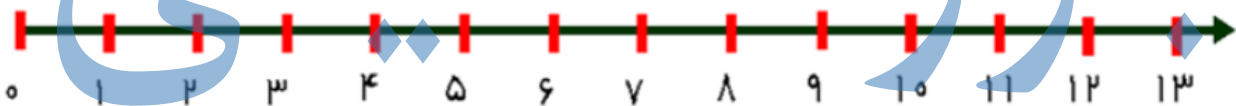
۷ برای شکل زیر تفریق بنویس



۸ یک الگوی سه تایی بکش



۹ عدانش آموز در حیاط مدرسه بازی می کردند. ۶ تایی دیگر هم آمدند. حالا چند دانش آموز بازی می کنند؟ با کمک محور



۱۰ در جای خالی عدد مناسب بنویس

۱۰ بسته ی ده تایی می شود یک دسته ی تایی

۵۰ می شود بسته ده تایی

۲ بسته ده تایی و ۹ یکی می شود.....

۴۵ می شود ده تایی و یکی

کل های زیبا موفق باشید